




Pile ou face

1. Si tu lances une pièce de monnaie 50 fois, quel côté vas-tu obtenir le plus souvent d'après toi : pile ou face ? Fais l'expérience.
2. Fais le compte  des résultats avec des crochets ✓.

Face		<input type="checkbox"/>	Face
Pile		<input type="checkbox"/>	Pile

3. Ta prédiction était-elle exacte ?
4. Que se passerait-il si tu lançais la pièce 100 fois ?